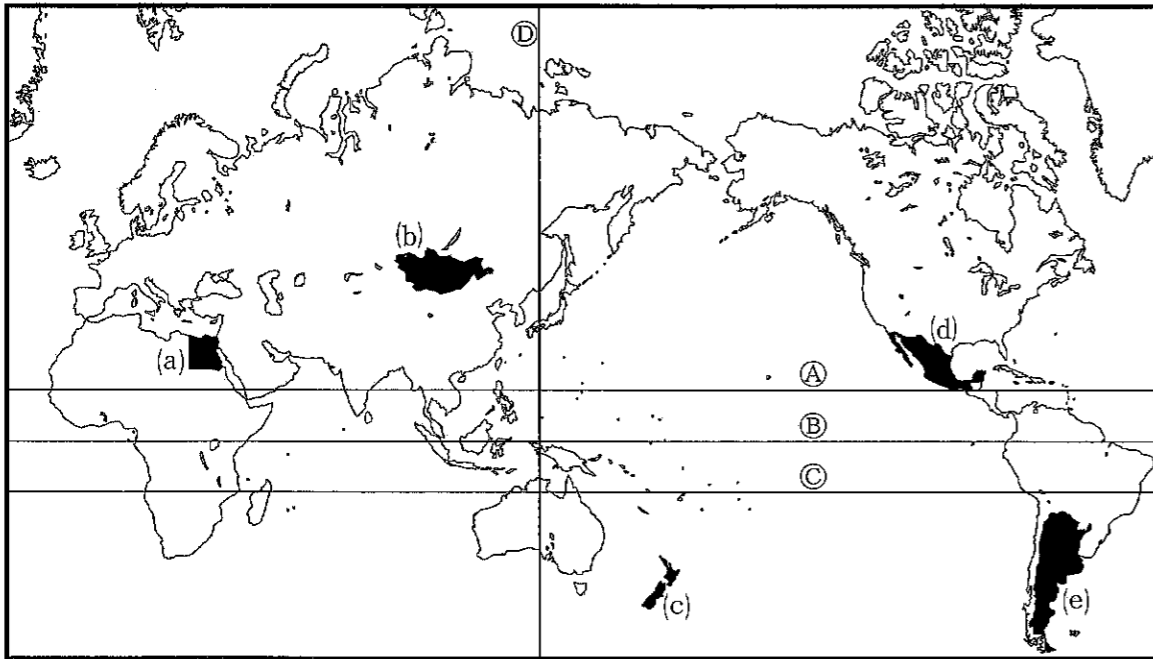


1 次の世界地図を見て、問いに答えなさい。



問1 地図中A～Cの線のうち、赤道はどれですか。

問2 次の①～③は、それぞれ下のア～エのうちのどこにありますか。

- ① チベット高原 ② グレートビクトリア砂漠 ③ セイロン島

ア Aよりも北 イ AとBの間 ウ BとCの間 エ Cよりも南

問3 地図中Dの線について正しく述べたものを、次のア～エの中から1つ選んで記号で答えなさい。

- ア この線は東経135度の経線である。 イ この線は東経135度の緯線である。
 ウ この線は西経135度の経線である。 エ この線は西経135度の緯線である。

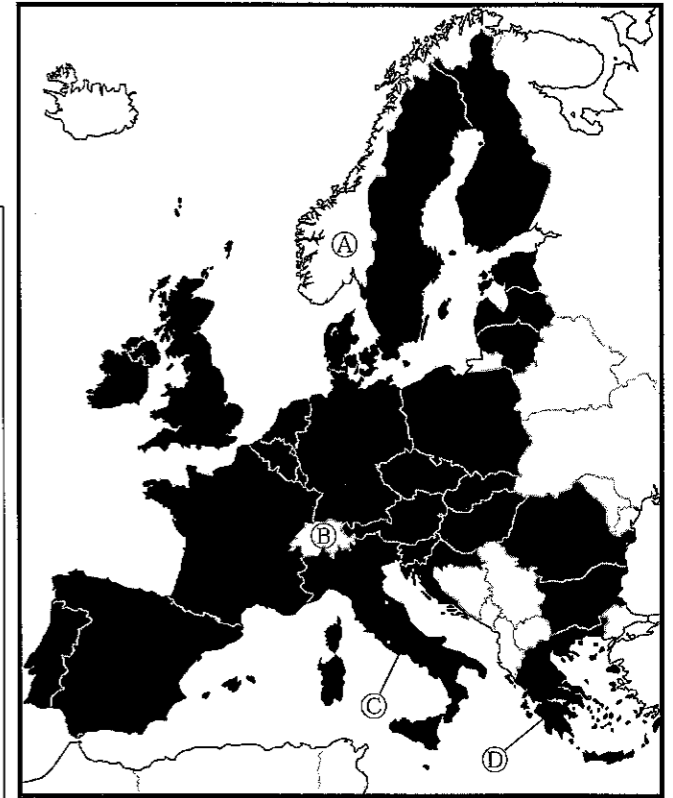
問4 次の①～③で述べられている国を、それぞれ地図中(a)～(e)から選んで記号で答えなさい。

- ① パンパと呼ばれる大平原で、小麦の生産や牛の放牧がおこなわれており、世界有数の牛肉生産国になっている。
 ② 羊やヤギを飼う遊牧民が多く暮らしているが、近年は首都ウランバートルに国の人口の約半分が住むという一極集中が問題になっている。
 ③ 温暖な西岸海洋性気候をいかした畜産業がさかんで、チーズの生産量は世界第4位、羊肉の輸出量は世界第1位である。

2 次のヨーロッパの地図を見て、問いに答えなさい。

問1 地図中の の国々は、EUの加盟国である。EUについて述べた次の文章中の空欄にあてはまる語句を答えなさい。

EUは“European Union”の略で、日本では「欧州 」または「ヨーロッパ 」と表記されている。2002年からは、単一通貨である の流通が始まっており、導入した国の間では両替をする必要がなくなった。また、人とモノの移動が原則自由化され、通常輸入品にかかる が、加盟国間ではかからないため、貿易が活発になって経済の発展につながっている。






問2 EU未加盟国である地図中A・Bの国名の組み合わせとして正しいものを、次のア～エの中から1つ選んで記号で答えなさい。

- ア A スウェーデン B オーストリア
 イ A スウェーデン B スイス
 ウ A ノルウェー B オーストリア
 エ A ノルウェー B スイス

問3 地図中Cの国の農業について述べた文として適当なものを、次のア～エの中から1つ選んで記号で答えなさい。

- ア 夏の乾燥に強いぶどうやオリーブ、冬の雨を生かした小麦の栽培などがさかんである。
 イ 豚や牛などの家畜の飼料と、小麦などの麦類や家畜のえさにする作物の栽培とを組み合わせた農業がさかんである。
 ウ 広大な畑で大型機械を使った大規模農場経営のもと、ライ麦やじゃがいもなどの栽培がさかんである。
 エ 比較的雨が多い気候を利用して、小麦やとうもろこし、大豆、綿花などの栽培がさかんである。

問4 地図中㉑の国の写真として適当なものを、次のア～エの中から1つ選んで記号で答えなさい。



3 次の資料Ⅰ・Ⅱに関する問いに答えなさい。

Ⅰ 日本の電力の発電方法別発電量の推移

(単位 百万KWh)

	2009年	2010年	2011年	2012年	2013年
火力発電	742,522	771,306	906,946	986,758	987,586
㉑	279,750	288,230	101,761	15,939	9,303
水力発電	83,832	90,681	91,709	83,645	84,885
㉒	3,613	4,016	4,676	4,838	5,201
地熱発電	2,887	2,632	2,676	2,609	2,596
太陽光発電	15	22	60	160	1,152

(『日本国勢図会』による)

問1 ㉑・㉒はそれぞれ何発電ですか。

問2 ㉑の発電が、2011年以降、急激に減っている理由として考えられることを簡潔に説明しなさい。

Ⅱ 日本の農産物生産量の上位5都道府県

(2013年産)

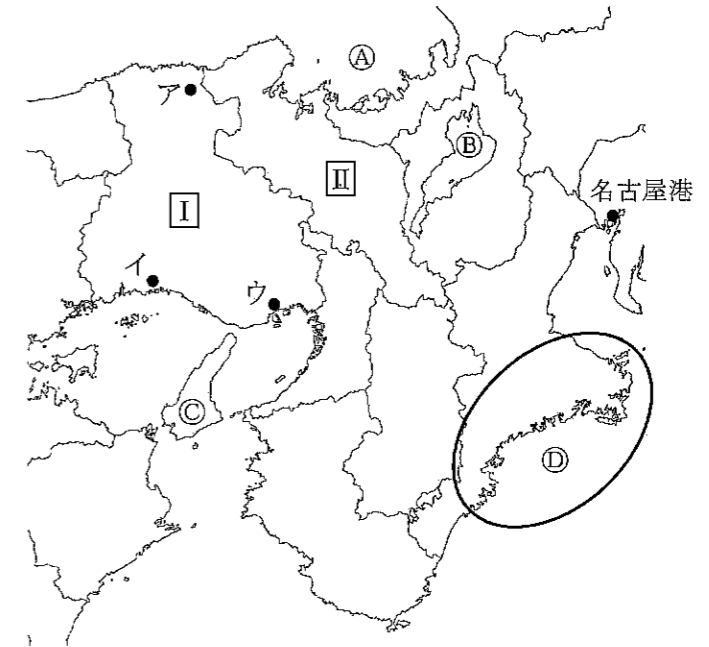
	1位	2位	3位	4位	5位
ねぎ	㉑	埼玉	茨城	北海道	群馬
なし	㉑	茨城	㉒	福島	栃木
トマト	㉑	北海道	茨城	㉑	愛知
すいか	㉑	㉑	山形	新潟	㉒

(『日本国勢図会』による)

問3 ㉑～㉒の都道府県の組み合わせとして正しいものを、次のア～カの中から1つ選んで記号で答えなさい。

- ア ㉑ 鳥取 ㉒ 熊本 ㉑ 千葉 イ ㉑ 鳥取 ㉒ 千葉 ㉑ 熊本
 ウ ㉑ 千葉 ㉒ 鳥取 ㉑ 熊本 エ ㉑ 千葉 ㉒ 熊本 ㉑ 鳥取
 オ ㉑ 熊本 ㉒ 鳥取 ㉑ 千葉 カ ㉑ 熊本 ㉒ 千葉 ㉑ 鳥取

4 次の地図を見て、問いに答えなさい。



問1 地図中Ⅰの都道府県庁所在地をア～ウから選び、都市名も答えなさい。

問2 地図中Ⅱの都道府県で毎年夏におこなわれている祭りを、次のア～エの中から1つ選んで記号で答えなさい。

- ア 花笠まつり イ 祇園祭 ウ 竿燈まつり エ ねぶた祭

問3 ㉑の湾、㉒の湖、㉓の島の名称を答えなさい。

問4 ㉔の地域について述べた次の文章中の㉕ ㉖ にあてはまる語句をそれぞれ答えなさい。

この地域の海岸線は、小さい岬と湾がくり返すのこぎりの歯のような地形をしている。このような地形を㉕ という。湾内は波がおだやかで、海産物の養殖がおこなわれているところも多い。なかでも、三重県の㉖ 半島にある英虞湾では、青のりや真珠の養殖がさかんである。

問5 地図中の名古屋港に関して、次の表は日本の港別貿易額をまとめたものです。名古屋港の主要輸出品をあげて、名古屋港の貿易の特徴を説明しなさい。

港別貿易額 (2014年) (単位 億円)

	輸出	輸入	合計
成田国際空港	81,112	116,621	197,732 (国内第1位)
東京港	61,374	110,042	171,416 (国内第2位)
名古屋港	113,748	57,165	170,913 (国内第3位)

(『日本国勢図会』による)

5 次の年表を見て、問いに答えなさい。

時代	年代	主なできごと
(a)縄文時代		
弥生時代	57	奴国の王が(b)中国に使いを送る
(c)古墳時代 (飛鳥時代)	A 645 B	(d)大化の改新が始まる
(e)奈良時代	710	平城京に都を移す
平安時代	794 C 1016 D	桓武天皇が平安京に都を移す (f)藤原道長が摂政となる
(g)鎌倉時代	1192	源頼朝が征夷大將軍となる
	1333	(①) 天皇による建武の新政が始まる
(h)室町時代	1338	足利尊氏が征夷大將軍となる
安土桃山時代	1573	(i)織田信長が室町幕府を滅ぼす
江戸時代	1603 E 1787 F	徳川家康が征夷大將軍となる (j)寛政の改革が始まる
(k)明治時代	1868	(l)五箇条の御誓文が出される
	1890	(m)第一回帝国議会在開かれる
大正時代		
昭和時代	1937	(n)日中戦争が始まる
	1941	(o)太平洋戦争が始まる
	1945	(③) 宣言を受諾して降伏する

問1 年表中の (①) ~ (③) に入る語句をそれぞれ答えなさい。

問2 次の(あ)~(う)の乱が起きた時期を、年表中の A ~ F からそれぞれ選んで記号で答えなさい。

(あ) 壬申の乱 (い) 平将門の乱 (う) 大塩平八郎の乱

問3 下線部(a)について、縄文時代の生活について述べた文として誤っているものを、次のア~エの中から1つ選んで記号で答えなさい。

ア 弓矢やイヌを狩りに用い、動きのすばやいシカやイノシシを捕えるようになった。

イ 地面を掘り下げて床とした竪穴住居をつくり、一か所に長く住むようになった。

ウ 豊かな恵みを願う祭りをを行い、女性の姿を模した土偶とよばれる人形をつくった。

エ 稲が実ると穂を石包丁でつみとり、高床倉庫におさめて貯蔵した。

問4 下線部(b)について、この時の中国の国名として正しいものを、次のア~エの中から1つ選んで記号で答えなさい。

ア 秦 イ 漢 ウ 隋 エ 唐

問5 下線部(c)について、古墳時代に作られたものとして最も適当なものを、次のア~エの中から1つ選んで記号で答えなさい。



問6 下線部(d)について、大化の改新を始めた中大兄皇子について述べた文として誤っているものを、次のア~エの中から1つ選んで記号で答えなさい。

ア 中臣鎌足とともに蘇我氏を倒した。


イ 全国の土地と人民を国のものとする方針を出した。

ウ 奈良盆地南部に広大な藤原京をつくった。

エ 百済を復興するために朝鮮に大軍を送ったが、大敗した。

問7 下線部(e)について、奈良時代の朝廷が743年に出した、農地の開墾をすすめるための法を何とといいますか。

問8 下線部(f)について、藤原道長の子で、浄土信仰の影響を受けて次の建築物を建てた人物はだれですか。



問9 下線部(g)について、鎌倉時代に著された文学作品を、次のア～カの中からすべて選んで記号で答えなさい。

- ア 『古今和歌集』 イ 『竹取物語』 ウ 『徒然草』
エ 『南総里見八犬伝』 オ 『日本書紀』 カ 『方丈記』

問10 下線部(h)について、室町時代におかれた役所として正しいものを、次のア～エの中から1つ選んで記号で答えなさい。

- ア 大宰府 イ 鎌倉府 ウ 六波羅探題 エ 遠国奉行

問11 下線部(i)について、織田信長が10年の戦いの末に降伏させた、一向一揆の中心であった大阪の寺を何といいますか。

問12 下線部(j)について、寛政の改革について述べた文として正しいものを、次のア～エの中から1つ選んで記号で答えなさい。

- ア 徳川綱吉が行い、金貨・銀貨の質を落としてその数量を増やそうとした。
イ 徳川吉宗が行い、江戸に目安箱を設けて民衆の意見を政治の参考にした。
ウ 田沼意次が行い、蝦夷地の開拓を計画し、長崎の貿易も盛んにしようとした。
エ 松平定信が行い、旗本や御家人の生活難を救うために借金を帳消しにした。

問13 下線部(k)について、明治時代には高等教育の充実を背景に、世界的に最先端の研究を行う科学者が現れました。破傷風菌の純粋培養に成功した次の写真の人物はだれですか。次のア～エの中から1つ選んで記号で答えなさい。



- ア 鈴木梅太郎
イ 北里柴三郎
ウ 長岡半太郎
エ 野口英世

問14 下線部(l)について、五箇条の御誓文の内容に含まれているものを、次のア～エの中から1つ選んで記号で答えなさい。

- ア 外国の文化を取り入れ、世論にしたがって新しい政治を行う。
イ 警視庁を設置し、そのもとに近代的な装備を持つ新しい軍隊をおく。
ウ 地方に府県を置き、大名たちを府知事や県令に任命して統治させる。
エ 地価の3%にあたる額を地租として米で納めさせる。

問15 下線部(m)について、次の(あ)～(え)は、第一回帝国議会が開かれるまでのできごとである。年代の古い順に正しく並べ替えたものを、下のア～カの中から1つ選んで記号で答えなさい。

- (あ) 大日本帝国憲法が發布される。 (い) 立憲改進黨が成立する。
(う) 民選議院開設の要求が政府に出される。 (え) 国会期成同盟が結成される。

- ア (い) → (う) → (あ) → (え) イ (い) → (う) → (え) → (あ)
ウ (う) → (い) → (え) → (あ) エ (う) → (え) → (い) → (あ)
オ (え) → (い) → (う) → (あ) カ (え) → (う) → (あ) → (い)

問16 下線部(n)について、日中戦争が始まった時の中国の国民政府の指導者を、次のア～エの中から1つ選んで記号で答えなさい。

- ア 毛沢東 イ 孫文 ウ 蔣介石 エ 袁世凱

問17 下線部(o)について、太平洋戦争中のできごととして誤っているものを、次のア～エの中から1つ選んで記号で答えなさい。

- ア 日本軍はインドシナ北部に侵攻し、ドイツ・イタリアと日独伊三国同盟を結んだ。
イ 日本は「大東亜共栄圏」をつくろうと宣伝し、東南アジアのほとんどを占領した。
ウ 日本国内では米の配給が減らされ、鉄くずなどの資源が徹底的に回収された。
エ 日本はサイパン島でアメリカに敗れ、大規模な本土空襲を受けるようになった。

6 世界の地域や国の歴史について述べた次のA～Eの文の(①)～(⑥)に入る語句を、それぞれ下のア～ソの中から1つずつ選んで記号で答えなさい。

- A (①) 流域では、紀元前2500年ころから計画都市が出現し、文字や印章がつけられた。
B 15世紀末に(②)は、アフリカ南端の喜望峯をまわって、直接インドへ行く航路を開いた。
C 17世紀のイギリスでは、名誉革命で(③)がつけられ、これが後のイギリス政治の基本となった。
D 第一次世界大戦直前、バルカン半島では、ボスニアの領有をめぐる(④)とオーストリアの対立が深まった。
E 世界恐慌に対して、イギリス・フランスは他国からの輸入をきびしく制限する(⑤)政策をとった。

- ア マゼラン イ ガンジス川 ウ 人権宣言 エ セルビア
オ 権利の章典 カ コロンブス キ ファシズム ク オスマン帝国
ケ ニューディール コ ナイル川 サ ドイツ シ ブロック経済
ス バスコ＝ダ＝ガマ セ インダス川 ソ 独立宣言

7 次の問いに答えなさい。

問1 世界の人口は増え続けていますが、日本の人口は2005年をさかいに減っています。一方、日本の平均寿命は伸び続け世界一の長寿国になっています。このように、子どもの数が減って高齢者人口が増加する変化を何といいますか。

問2 日本では、1985年に女子差別撤廃条約を批准し、男女雇用機会均等法などの法律を制定してあるべき社会をつくるため取り組んできました。このような取り組みが目指す、男女がともに、あらゆる分野に参加する機会をもち、利益を享受し、責任を担う社会を何といいますか。

問3 大きな強制力を持つ国会・内閣・裁判所は、国家の最高法規である憲法に違反してはいけません。権力を持つものは、自分のその時の考えで権力を行使するのではなく、憲法に従って権力を行使しなければいけないという考えを何主義といいますか。

問4 基本的人権の中で、最初に最も重要視されたのが自由権でした。しかし、産業革命がおこり資本主義経済が発展するにつれ、貧富の差を含めたさまざまな問題がおこり、自由権の保障だけでは不十分になりました。20世紀以降求められた、人間らしく生きる権利を総称して何といいますか。

問5 製造者に故意や過失がなくても、製造物に欠陥があることを証明できれば責任を追究することができる法律が1994年に成立しました。製造物の欠陥により、生命や身体または財産に被害が生じた場合、製造者とその損害の賠償責任を負うと定めたこの法律を何といいますか。

問6 生活する中でおこるさまざまな困難に、人々が相互扶助の精神に基づき、国の責任において、生活上の不安を取り除こうとするしくみが社会保障です。社会保障の根本精神としてあげることのできる、日本国憲法第25条に述べられている権利を何といいますか。

8 次の文章を読んで、問いに答えなさい。

日本国憲法第41条には「国会は、国権の(①)であって、国の唯一の立法機関である。」とある。国会で採決が行われるのは本会議であるが、本会議が開かれる前に、必ず(②)の審議を経る決まりになっている。国会議員は必ずいずれかの(②)に属しなければならない。(②)では必要に応じて専門家や利害関係者による(③)を開くことができる。

(a)国会は法律の制定や予算の審議など重要な仕事を多く行っている。衆議院は参議院にくらべて強い権限を与えられており、これを(b)衆議院の優越という。

問1 (①)～(③)にあてはまる最も適当な語句を答えなさい。

問2 下線部(a)について、国会の仕事内容について述べた文として適当でないものを、次のア～エの中から1つ選んで記号で答えなさい。

ア 法律案は国会議員あるいは内閣によって提出される。議員提出の法案を議員立法という。

イ 法律案や予算がそれぞれの議院で可決されるには総議員の過半数の賛成が必要である。

ウ 重大な過ちのあった裁判官を裁判するため、弾劾裁判所を設けることができる。

エ 法律案が成立すると、天皇は国民の名で公布することになる。これは天皇の国事行為である。

問3 下線部(b)について、衆議院の優越について述べた文として適当でないものを、次のア～エの中から1つ選んで記号で答えなさい。

ア 法律案の議決は、衆議院の議決の後、参議院が60日以内に議決しないときは、衆議院の議決が国会の議決になる。

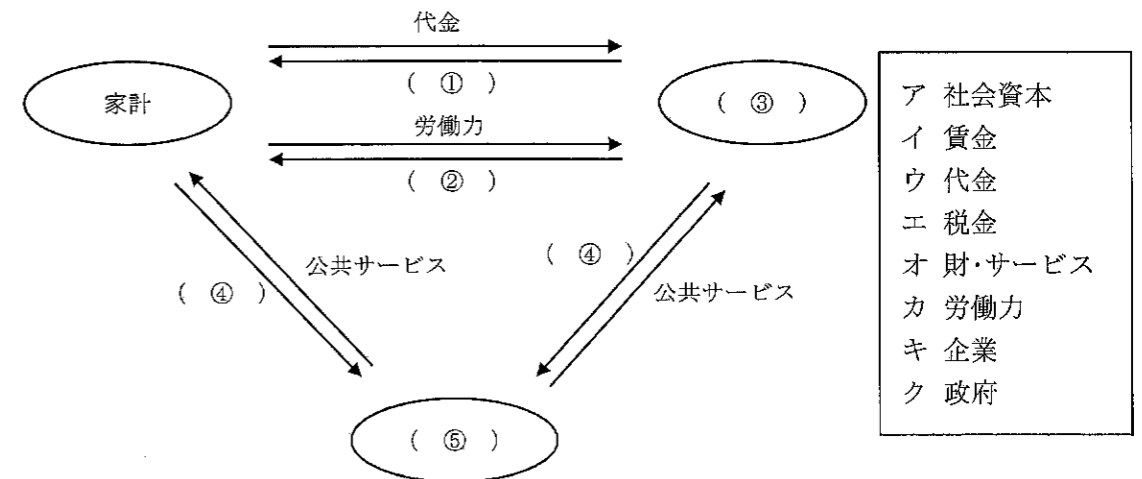
イ 内閣総理大臣の指名は、衆議院の議決の後、国会休会中の期間を除いて参議院が10日以内に議決しないときは、衆議院の議決が国会の議決になる。

ウ 内閣不信任決議の権限は参議院にはなく、衆議院にのみある。

エ 予算の議決において、衆議院の議決の後、国会休会中の期間を除いて参議院が30日以内に議決しないときは、衆議院の議決が国会の議決になる。

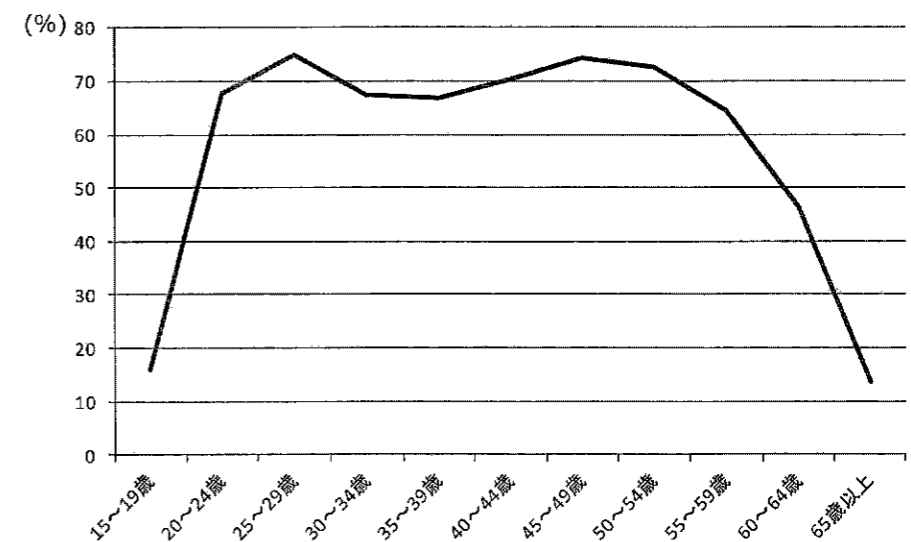
9 次の問いに答えなさい。

問1 経済の循環について表した次の図の(①)～(⑤)にあてはまる語句を、それぞれ右のア～クの中から1つずつ選んで記号で答えなさい。



- ア 社会資本
- イ 賃金
- ウ 代金
- エ 税金
- オ 財・サービス
- カ 労働力
- キ 企業
- ク 政府

問2 次のグラフは、2013年の日本における年齢別の女性の労働力率の変化を表したものです。この形が、M字型になる理由を簡潔に述べなさい。



(総務省『労働調査』による)

2016年度 福山暁の星女子高等学校 入学試験問題 社会 解答用紙

受験番号

1	問1		問2	①		②		③		問3	
	問4	①		②		③					

2	問1	①			②				
		③			問2		問3		問4

3	問1	Ⓐ			Ⓑ		
	問2						
	問3						

4	問1	記号		都市名		問2	
	問3	Ⓐ			Ⓑ		
		Ⓒ					
	問4	①			②		
	問5						

5	問1	①			②					
		③			問2	(あ)	(い)	(う)		
	問3		問4		問5		問6			
	問7				問8					
	問9				問10		問11			
	問12		問13		問14		問15		問16	
	問17									

6	①		②		③		④		⑤	

7	問1		問2	
	問3		問4	
	問5		問6	

8	問1	①			②		
		③			問2		問3

9	問1	①		②		③		④		⑤	
	問2										