

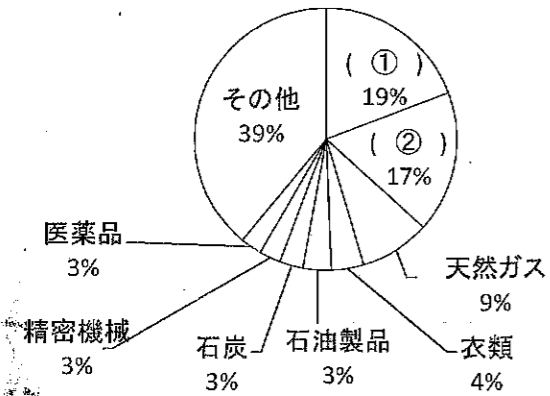
2016年度 福山暁の星女子中学校 入学試験問題 社会

1 日本の貿易や工業について、問いに答えなさい。

問1 【グラフ1】【グラフ2】中の(①)・(②)にあてはまる品名を、次のア～カの中から1つずつ選んで記号で答えなさい。

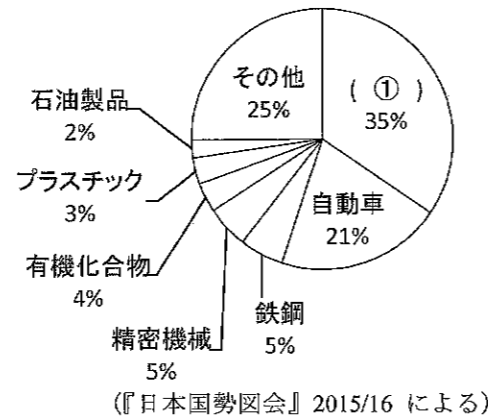
【グラフ1】

主な輸入品のうちわけ(2013年)



【グラフ2】

主な輸出品のうちわけ(2013年)



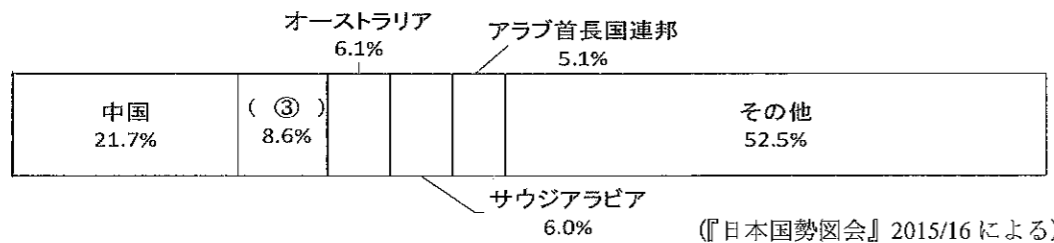
- ア 原油 イ 自動車 ウ 機械類
エ 農産物 オ 海産物 カ せんい品

問2 日本の輸出品のなかで、工業製品が占める割合が大きい。日本の工業地帯や工業地域が太平洋や瀬戸内海沿岸に多く発展した理由を、次のことばに続けて、説明しなさい。

原料や

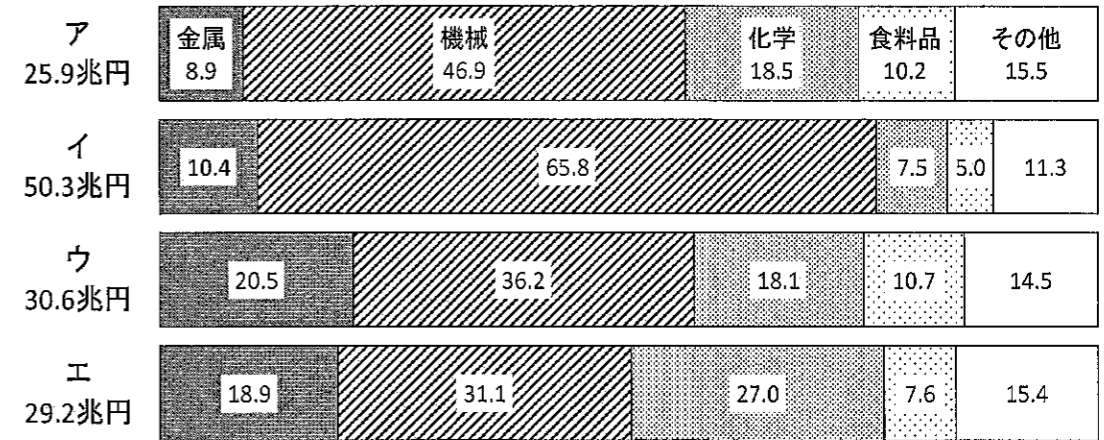
問3 【グラフ3】の(③)にあてはまる国名を答えなさい。

【グラフ3】日本の主な輸入相手国(2013年)



問4 【グラフ4】は工業地帯・工業地域ごとの生産額のうちわけを示しています。【グラフ4】の中で、瀬戸内工業地域の生産うちわけを示しているものを、次のア～エの中から1つ選んで記号で答えなさい。

【グラフ4】工業地帯・工業地域別の出荷額のうちわけ(2013年)(単位%)



(『日本国勢図会』2015/16による)

問5 次の作業a～dは自動車を製造する過程です。正しい順に並べたものを、次のア～カの中から1つ選んで記号で答えなさい。

- a プレス 部品大きさに合わせて切った鉄板をプレス機で曲げたり、打ちぬいたりする。
b 溶接 ロボットを使い、部品を電気の熱でとかしてつける。
c 検査 ブレーキテストをしたり、排出ガスを調べる。
d 塗装 車体を高圧シャワーを使って洗い、4段階に色をぬる。

- ア a → b → c → d イ a → c → b → d
ウ a → b → d → c エ b → a → d → c
オ b → d → c → a カ b → a → c → d

問6 日本の工場には、働く人が300人未満の中小工場があります。中小工場について述べた文として誤っているものを、次のア～エの中から1つ選んで記号で答えなさい。

- ア 日本の工場のうち、中小工場が占める割合は99%以上である。
イ 中小工場の多くは、大きな会社の協力工場として生産を請け負っている。
ウ 中小工場のなかには、外国から注文がくるようなすぐれた技術をもった工場がある。
エ 中小工場は大工場とちがって高い技術で一度にたくさんの製品を作ることができる。

2 日本と中国との関係について述べた次の文章を読んで、問いに答えなさい。

弥生時代から、倭国の王が中国の皇帝に使いを送っていたことが知られている。

【 】は、小野妹子らを隋に送って、留学生に中国の政治のしくみや文化を学ばせた。かれらが学んだことは、645年に蘇我氏を滅ぼして新しい政治を始めた中大兄皇子や中臣鎌足らの改革に生かされた。中大兄皇子らは(a)中国にならって政治のしくみを整えていった。(b)奈良時代には、遣唐使によって、中国から多くの品々や文化が日本にもたらされた。

(c)鎌倉時代には、中国に攻められる事件もおきたが、室町時代には幕府の貿易船が送られ、中国から生糸や銭、(d)さまざまな文化がもたらされた。

江戸時代になって、鎖国のときも中国の商人は長崎に来て貿易することが許された。

明治になって、欧米にならった近代化をすすめ、アジアに勢力をのぼそうとした日本は、朝鮮をめぐって清国と対立し、(e)日清戦争が起こった。

(f)1931年、日本軍が南満州鉄道を爆破した事件をきっかけに、日本は中国軍と戦争を始め、(g)1937年からは日本と中国との全面戦争が始まった。

戦後、世界が大きく二つに分かれ対立する時代が長く続き、(h)中華人民共和国と国交を正常化したのは1972年であった。

問1 【 】にあてはまる人名を答えなさい。

問2 下線部(a)について、このころ定められた制度として誤っているものを、次のア～エの中から1つ選んで記号で答えなさい。

- ア 各地の特産物が税として都に届けられた。
- イ 農民は稲のとれ高のおよそ3%を納めることとされた。
- ウ 戸籍をつくって、人々に田をわりあて耕作させた。
- エ 役人の位を12段階に分けた。

問3 下線部(b)について、この時代に日本に来て仏教を広め、唐招提寺を開いた中国の僧はだれですか。

問4 下線部(c)に関して、この事件の後の鎌倉時代のこととして正しいものを、次のア～エの中から1つ選んで記号で答えなさい。

- ア 幕府に対して不満をもつ御家人が増加した。
- イ 九州の守りにつくために新しく守護や地頭が置かれた。
- ウ 北条氏をおさえて将軍が強い力を持つようになった。
- エ 地頭の力が強まり、大名とよばれるようになった。

問5 下線部(d)について、中国にわたって水墨画を学び、日本独自の水墨画を完成させた人物はだれですか。

問6 下線部(e)について、この戦争の講和会議で決められたこととして正しいものを、次のア～エの中から1つ選んで記号で答えなさい。

- ア 樺太の南半分が日本領になった。
- イ リャオトン半島を中国に返した。
- ウ 朝鮮が日本領になった。
- エ 多額の賠償金を日本が受け取るようになった。

問7 下線部(f)に関して、この事件の後のできごととして誤っているものを、次のア～エの中から1つ選んで記号で答えなさい。

- ア 日本が国際連盟から脱退した。
- イ 軍人が総理大臣を暗殺する事件が起きた。
- ウ 日本にも影響をあたえた不景気が、アメリカで始まった。
- エ 満州国がつくられた。

問8 下線部(g)について、この戦争に関する説明として誤っているものを、次のア～エの中から1つ選んで記号で答えなさい。

- ア ペキンの近くで日本軍と中国軍が衝突したことがきっかけでこの戦争は始まった。
- イ 日本軍がナンキンを占領したときに多くの女性や子どもをふくむ市民を殺害した。
- ウ 中国は、他の国の支援を受けることなく戦争を続け、はげしく日本と戦った。
- エ この戦争にゆきづまった日本は東南アジアや太平洋に戦争を拡大していった。

問9 下線部(h)に関して、日中国交正常化以前のこととして正しいものを、次のア～エの中から1つ選んで記号で答えなさい。

- ア アメリカとソ連を中心とする世界を二つに分ける対立が終わった。
- イ 産油国が原油価格をひきあげたため、世界中で経済が混乱した。
- ウ 沖縄が日本に返還された。
- エ 地球温暖化防止会議が京都で開かれた。

3 次の文章を読んで、問いに答えなさい。

暁子さんは、(1)小学校の遠足で、学校から北東の方角にある運動公園に行きました。公園に到着するまでに、二つの神社の前を通りました。最初の神社の南側には郵便局がありました。とちゅうの何か所かに(2)ごみ置き場がありました。二つめの神社の北にはスーパーマーケットがありました。スーパーマーケットには、いろいろな(3)野菜やくだものがあるのが見えました。畑のなかをしばらく歩くと、運動公園に到着しました。

問1 下線部(1)について、日本で小学校での教育が始まった時期を、次のア～エの中から1つ選んで記号で答えなさい。

- ア オリンピック東京大会が開かれたころ イ 関東大震災がおこったころ
ウ 日本で鉄道が初めて開通したころ エ 第一次世界大戦のころ

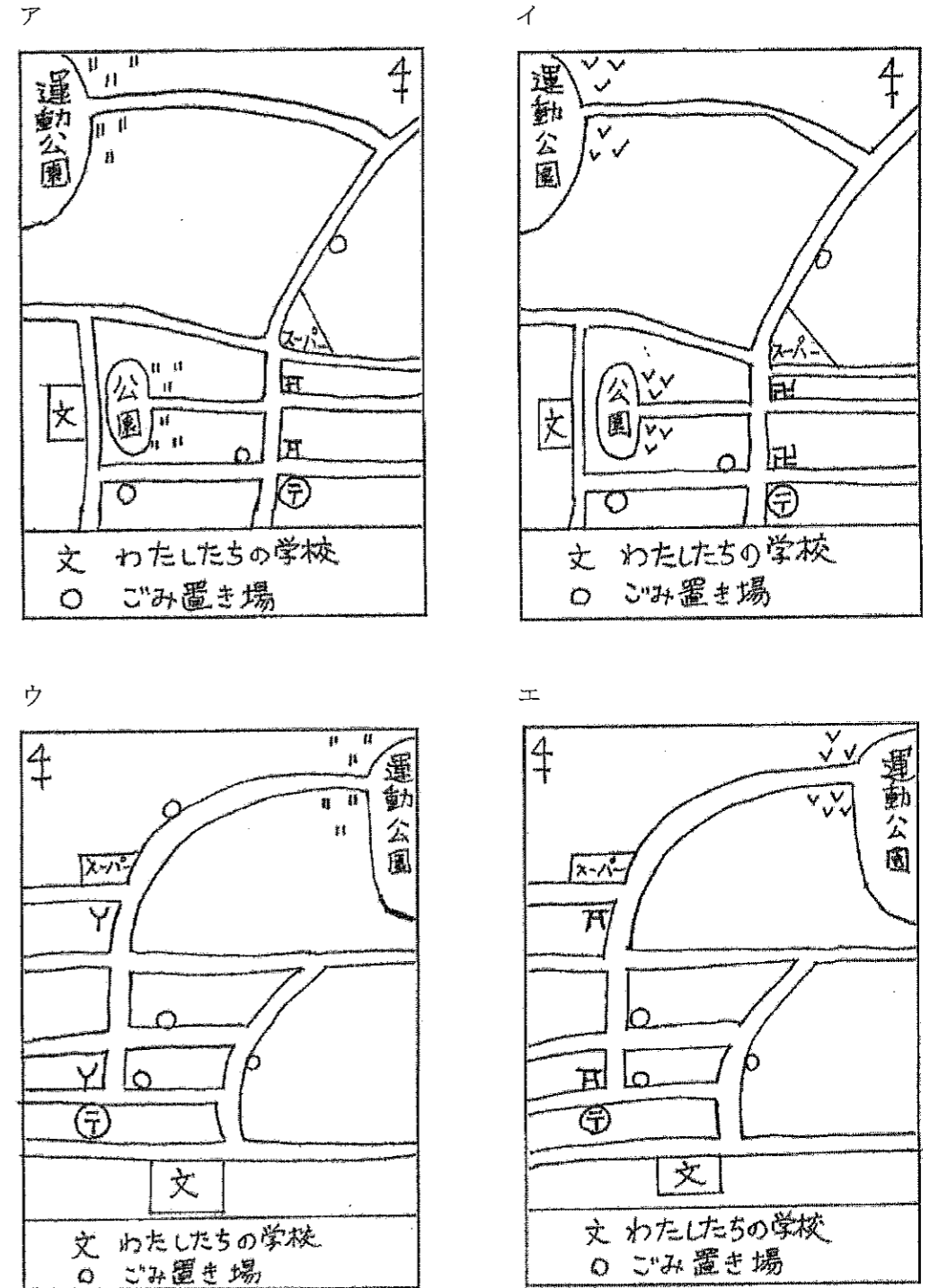
問2 下線部(2)について、ごみを分別して出す理由を簡単に答えなさい。

問3 下線部(3)について、次のAとBの作物の生産量第1位の都道府県を説明している文を、それぞれ下のア～ウの中から1つずつ選んで記号で答えなさい。

- A ジャガイモ B りんご

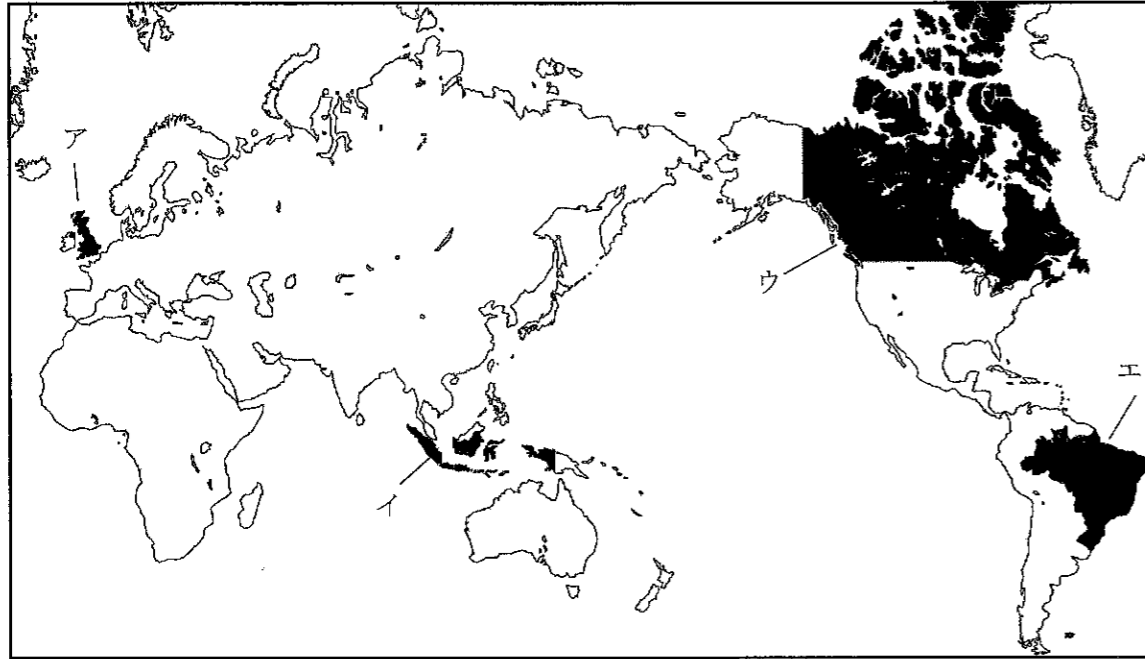
- ア 明治時代になって米づくりが始まったところで、札幌市が中心都市である。
イ 有明海に面していて、のりの産地として知られ、県内に吉野ヶ里遺跡がある。
ウ サンマの水あげ量が多い八戸や、世界遺産に登録されている白神山地がある。

問4 暁子さんが、小学校から運動公園まで歩いたコースがわかる絵地図として、もっともふさわしいものを、次のア～エの中から1つ選んで記号で答えなさい。



4 次の問いに答えなさい。

問1 次の世界地図を見て、下の(1)～(3)が説明している国を、地図中のア～エからそれぞれ1つずつ選んで記号で答えなさい。



- (1) この国から日本はエビを大量に輸入している。
- (2) この国では、今年、オリンピックが開かれる。
- (3) この国の都市を通る経線を0度としている。

問2 日本について説明している文として誤っているものを、次のア～エの中から1つ選んで記号で答えなさい。

- ア 日本列島はユーラシア大陸北東部と陸続きであったが、約1万年前に切りはなされた。
- イ 日本は、周りを日本海・太平洋・大西洋に囲まれている。
- ウ 日本は、47都道府県に分かれ、4つの大きな島を中心に約6800の島がある。
- エ 北海道・本州・四国・九州は、橋やトンネルでつながっている。

問3 イタリアから始まって世界に広まったとされ、地元で生産された安全な野菜や肉などを必要な分だけ使って、時間をかけてつくったり、時間をかけて食べたりする食べ物や食事のしかたを何といいますか。

5 次のA群の(1)～(5)で述べた県について、もっとも関係の深い文をB群のア～オの中から1つずつ選んで記号で答えなさい。

A群


- (1) この県中部の牧之原などの台地などでは茶の栽培がさかんで、生産量が日本一となっている。天竜川上流から運ばれる木材を加工して楽器づくりが始まった。
- (2) この県南西部の宇和海に面した地域は海岸線が入り組み、マダイやハマチの養殖がさかんである。「しまなみ海道」の開通によって、県内の自動車の通行量が増加した。
- (3) この県の北部にある半島は日本海につきでている。県内各地で、輪島塗や加賀友禅、九谷焼などの伝統工芸品の生産がさかんである。
- (4) この県には世界遺産に登録された熊野古道がある。県内のみなべ町は、「南高梅」という梅の生産量が日本一である。
- (5) この県では、筑後川の下流の平野で米作りがさかんである。県南部では、茶・いちごなどの果物の栽培もさかんである。

B群

- ア この県の県庁所在地は、紀ノ川の河口付近にある。紀ノ川周辺ではみかんの栽培がさかんである。
- イ この県の県庁所在地には、博多港があり、昔から日本の海の玄関口となっていた。現在も博多港や空港を利用してたくさんの人々が日本と外国との間を行き来している。
- ウ この県の県庁所在地は、前田氏の城下町としてさかえ、2015年3月には東京を出発する新幹線がこの都市まで来るようになった。
- エ この県の県庁所在地は、昔から道後温泉があることで有名で、夏目漱石の『坊っちゃん』の舞台となった。
- オ この県の県庁所在地の南西部にある焼津市には、カツオが水あげされる国内有数の漁港がある。


6 次の①～④の写真を見て、問いに答えなさい。

問1 ①の写真とその時代について述べた文として誤っているものを、下のア～エの中から1つ選んで記号で答えなさい。




- ア 屋しきの中には、日本の風景などをえがいた戸がある。
- イ 絵にえがかれている時代に藤原道長がかつやくした。
- ウ えがかれた人たちは、着物を何枚も重ねて着ている。
- エ 部屋の奥には、床の間や作りつけの机がみられる。

問2 ②の写真とその時代について述べた文として誤っているものを、下のア～エの中から1つ選んで記号で答えなさい。




- ア 役者は顔に化粧をし、派手なもようの衣装を着ている。
- イ 芝居小屋の見物席には2階、3階がある。
- ウ 芝居を楽しんでいるのは男性ばかりである。
- エ 芝居の台本作家として近松門左衛門がかつやくした。

問3 ③の写真とその時代について述べた文として誤っているものを、下のア～エの中から1つ選んで記号で答えなさい。



- ア 絵の左側に見られる黒い船は蒸気船である。
- イ 絵にえがかれている時代に、織田信長がかつやくした。
- ウ 黒衣着物の宣教師たちが船から降りた人たちを迎えている。
- エ 南蛮船から荷物を下ろしている様子をえがいている。

問4 ④の写真とその時代について述べた文として誤っているものを、下のア～エの中から1つ選んで記号で答えなさい。



- ア 田植えの様子をえがいている。
- イ 田のなかでおどったり、笛をふいたりする人がみられる。
- ウ 絵にえがかれている時代に、ヤマトの大王が人々を従えていた。
- エ 牛を使って田を耕している。

受験番号

1

問1	①	②
問2	原料や	
問3		
問4	問5	問6

2

問1	問2
問3	問4
問5	問6
問7	問8
	問9

3

問1			
問2			
問3	A	B	問4

4

問1	(1)	(2)	(3)
問2	問3		

5

(1)	(2)	(3)
(4)	(5)	

6

問1	問2	問3
問4		